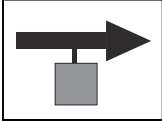


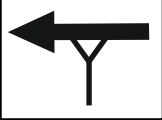
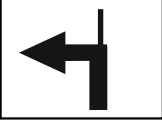
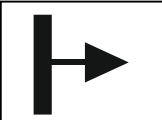

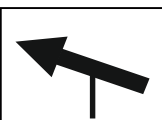

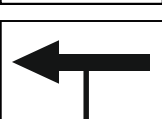
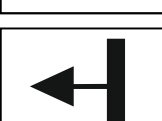



Vymetání 2018

pořadí		start		cíl		body	šlapadlo		test		jednoduché úkoly													kašna		lanový park		celkem		
		hod.	min.	hod.	min.		min.	vt.	body	výsledek	body	3.A	3.B	3.C	4.AA	4.AB	4.BA	4.BB	4.CA	4.CB	5.A	5.B	5.C	7	body	objem	body		výkon	body
1	30	Michal N.	11	10	15	40	2	14	36	13	78	1	1	1	1	1	1	1	0	0	1	0	1	1	50	2820	47	10	50	307,9
2	25	Jarda K.	11	11	16	42	2	14	36	12	72	1	1	1	1	1	1	1	0	0	1	1	1	1	55	2500	50	8	40	287,6
3	29	Lukáš B.	10	55	17	27	2	27	30	13	78	1	1	1	1	1	1	1	0	0	1	1	1	1	55	2155	43	10	50	278,0
4	8	Michal Ř.	11	16	17	16	2	21	33	13	78	1	0	1	1	1	1	1	0	0	1	1	1	1	50	2120	42	9	45	276,7
5	7	Jirka M.	11	16	17	16	2	50	18	13	78	1	1	1	1	1	1	1	0	0	1	1	1	1	55	2120	42	9	45	267,2
6	28	Vláďa B.	10	55	17	27	2	27	30	12	72	1	1	1	1	1	1	1	0	0	1	1	1	1	55	2155	43	9	45	267,0
7	10	Jarda Š.	11	7	17	10	2	41	23	10	60	1	1	1	1	1	1	1	0	0	1	1	1	1	55	2800	47	10	50	263,2
8	33	Lucie N.	11	5	18	12	2	26	30	12	72	1	1	1	1	1	1	1	0	0	1	1	1	1	55	2120	42	9	45	259,8
9	40	Honza P.	11	13	17	30	2	32	27	10	60	1	1	1	0	1	1	1	0	0	1	1	1	1	50	2120	42	10	50	254,8
10	36	David N.	11	12	17	30	2	32	27	10	60	1	1	1	0	1	1	1	0	0	1	1	1	1	50	2120	42	10	50	254,6
11	14	Libor D.	10	53	17	30	3	0	13	14	84	1	1	1	1	1	1	1	0	0	1	1	1	1	55	2263	45	7	35	253,7
12	43	Tomáš V.	11	5	18	12	2	53	17	13	78	1	1	1	1	1	1	1	0	0	1	1	1	1	55	2120	42	9	45	252,3
13	1	Franta S.	10	45	16	39	3	1	13	10	60	1	1	1	1	1	1	1	0	0	1	0	1	1	50	2474	49	10	50	252,0
14	12	Karel M.	10	54	17	27	2	27	30	9	54	1	1	1	1	1	1	1	0	0	1	1	1	1	55	2263	45	9	45	251,0
15	6	Eva P.	11	30	18	40	2	50	18	14	84	1	1	1	1	0	1	1	0	0	1	1	0	1	45	1780	36	10	50	247,4
16	11	Lenka Š	11	7	17	10	2	41	23	7	42	1	1	1	1	1	1	1	0	0	1	1	1	1	55	2800	47	10	50	245,2
17	19	Helena L.	11	21	18	45	2	16	35	10	60	1	1	1	1	0	1	1	0	0	1	1	1	1	50	1986	40	9	45	241,7
18	2	Magda S.	10	47	16	39	3	1	13	8	48	1	1	1	1	1	1	1	0	0	1	0	1	1	50	2474	49	10	50	240,4
19	9	Olda P.	11	16	17	16	2	50	18	9	54	1	1	1	1	1	1	1	0	0	1	1	1	1	55	2120	42	8	40	238,2
20	21	Marek S.	10	58	16	45	2	20	33	4	24	1	1	1	1	1	1	1	0	0	1	1	1	1	55	2240	45	10	50	238,2
21	32	Karel R.	11	5	18	12	2	26	30	8	48	1	1	1	1	1	1	1	0	0	1	1	1	1	55	2120	42	9	45	235,8
22	23	Milan Š.	10	58	16	45	3	22	32	3	18	1	1	1	1	1	1	1	0	0	1	1	1	1	55	2240	45	10	50	231,2
23	15	Petr Fou.	11	0	17	10	3	14	6	10	60	1	1	1	1	1	1	1	0	0	1	1	0	1	50	2800	47	8	40	230,3
24	49	Robert D.	11	20	18	40	2	19	34	9	54	1	1	1	1	0	1	1	0	0	1	1	1	1	50	1972	39	8	40	229,7
25	50	Lenka D.	11	20	18	40	2	19	34	8	48	1	1	1	1	0	1	1	0	0	1	1	1	1	50	1972	39	9	45	228,7
26	13	Milan S.	10	54	17	27	3	0	13	8	48	1	1	1	1	1	1	1	0	0	1	1	1	1	55	2263	45	9	45	228,5
27	18	Marek L.	11	21	18	45	2	16	35	7	42	1	1	1	1	1	1	1	0	0	1	1	1	1	55	1970	39	9	45	228,4
28	41	Honza F.	10	58	16	45	2	22	32	3	18	1	1	0	1	1	1	1	0	0	1	1	1	1	50	2240	45	10	50	226,2
29	47	Honza Š.	11	18	16	45	2	32	27	3	18	1	1	1	1	1	1	1	0	0	1	0	1	1	50	2250	45	10	50	225,4
30	5	Vláďa P.	11	18	16	45	2	32	27	3	18	1	1	1	1	1	1	1	0	0	1	0	1	1	50	2240	45	10	50	225,2
31	20	Nela L.	11	21	18	45	2	21	33	7	42	1	1	1	1	0	1	1	0	0	1	1	1	1	50	1972	39	9	45	220,9
32	22	Ivo D.	11	9	17	27	3	14	6	9	54	1	1	1	1	1	1	1	0	0	1	1	1	1	55	2100	42	7	35	217,2
33	17	Jana P.	10	51	16	36	3	8	9	10	60	1	1	1	1	1	1	1	0	0	1	1	1	1	55	4750	8	10	50	214,3
34	38	Tomáš W.	11	5	18	12	2	53	17	6	36	1	1	1	1	1	1	1	0	0	1	1	1	1	55	2120	42	9	45	210,3
35	52	Honza C.	11	30	18	40	2	56	15	5	30	1	1	1	1	0	1	1	0	0	1	1	1	1	50	1972	39	10	50	199,2
36	26	Petr Fil.	10	49	16	44	3	26	0	2	12	1	1	1	1	1	1	1	0	0	1	1	1	1	55	2470	49	10	50	196,2
37	24	Jarda P.	11	19	18	40	2	56	15	4	24	1	1	1	1	0	1	1	0	0	1	1	1	1	50	2000	40	10	50	191,6
38	16	Luděk P.	10	51	16	36	3	8	9	11	66	1	1	1	1	1	1	1	0	0	1	1	1	1	55	4750	8	0	0	170,3
39	27	Pepa F.	10	50	16	44	3	26	0	3	18	1	1	1	1	1	1	1	0	0	1	1	1	1	55	2470	49	2	10	162,4

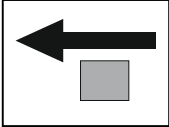

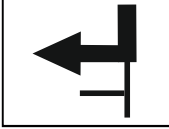
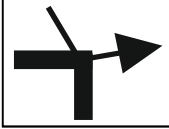
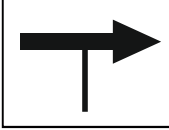



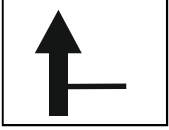



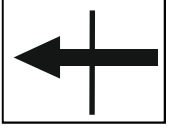
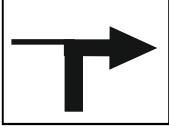
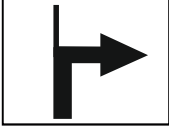
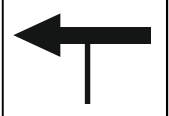
1	0,0	Kemp Nová Rabyň VYNULUJTE TACHOMETR	
2	0,3		Z kempu vyjedete zpátky na silnici. Dejte se doprava - do kopce.
3	6,7		Pořád po hlavní.
4	8,8		Rovně, po hlavní.
5	13,3		Kolem kapličky doleva.
6	13,7		Stále jsme v obci. Ještě jednou doleva, pořád po hlavní.
7	16,1		 Doprava na úzkou silnici. Nebezpečné horizonty, šterk.
8	18,0		Jasný.
9	19,2		Jasný.
10	20,0		Jasný. Pak budete projíždět obcí. Pořád po hlavní.
11	22,6		Tuhle odbočku nepřehlédněte. Jste na konci obce a míříte k dalšímu úkolu. Už tušíte...
12	23,3		Vjedte dovnitř do areálu, zaparkujte a splňte úkol. přístupné non-stop Úkol č. III. (šlapadla byla úkol č. I., testík byl úkol č. II.)

V areálu zjistěte:

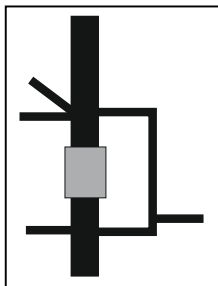
Otázka III.A: Zapište kód objektu, odborně kód ICAO.

Otázka III.B: Napište, jak se jmenuje stroj, který se vyráběl v roce 1958 až 1964 o celkovém motorovém výkonu 420 k.

Otázka III.C: V jakém roce byl v tomto objektu celkově největší provoz?

- 13 **0,0**
VYNULUJTE TACHOMETR Po splnění úkolu ještě v areálu vynulujte tachometr a vyjed'te směrem k bráně.
- 14 **0,1**
23,40  Z brány vyjed'tete směrem doleva. Pokračujete směrem na východ.
- 15 **1,5**
24,80  Po hlavní doprava.
Podjed'tete dva mosty.
- 16 **1,6**
24,90  Těsně za oběma mosty pak dojed'tete na hlavní, kde odbočíte doleva.
- 17 **2,3**
25,60  Za rybníkem doprava.
- 18 **3,6**
26,90  Pozor, motáme se po objížd'ce, tak je tu trochu chaos.
Doprava na silnici č. 111.
- 19 **3,7**
27,00  A hned doleva. Jedete směrem Líštětec a Jinošice.
- 20 **7,2**
30,50   Pozor, vjíždíte docela nečekaně na hlavní!!!
- 21 **8,7**
32,00  Jasný.
- 22 **10,5**
33,80  Před rybníkem rovně (mírně doprava), sjed'tete na vedlejší.
- 23 **13,8**
37,10   Pozor, opět vjíždíte docela nečekaně na hlavní!!!
- 24 **14,4**
37,70  Jsme v obci.
Doleva, odbočujete na silnici, která má číslo stené jako hasiči.
- 25 **17,3**
40,60  Jasný.
- 26 **24,0**
47,30  Mimo obec. Křižovatka na poli u lesa.
- 27 **26,4**
49,70  Obec, jste skoro na úkolu.
Odbočte doleva a po 100 metrech zastavte na náměstí.
Čeká tu na Vás úkol a šance na oběd.

28 **26,5**
49,80



Úkol č. IV

přístupné od 12.30 do 16.30 hod.

Jsmo na náměstíčku roztomilého městyso pod kopcem.

**Rozhlédněte se, najděte "íčko". Obvykle bývá zelené.
Není moc vidět, ale vidět je. Podle počasí.
Nebud'íte přízemní.**

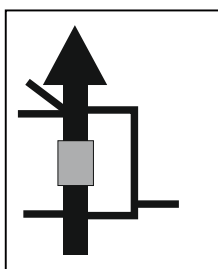
Tak tam běžte a dozvíte se víc.

Co zjistíte, napište do startovního dokladu.

I s cestou na Novou Rabyni máte v kolech cca 80 km. Ještě cca 100 km je před vámi. Oběd nikde není domluven, doporučujeme tedy využít i kapacit místních restaurací.

29 **0,0**

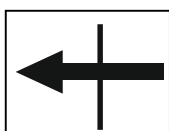
VYNULUJTE TACHOMETR



Po splnění úkolu a případném obědě odjíždíte směrem na sever ulicí od B., silnice č. 150.


Asi 1 km po levé straně budete míjet mimořádnou horu. Odtud, až bude českému národu nejhůře, snad přijedou...

30 **6,0**
55,80



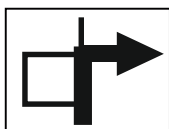
Doleva.

31 **6,4**
56,20



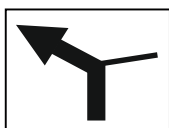
Kostky, provoz, zmatek.

32 **10,8**
60,60



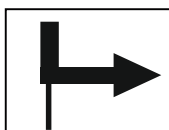
Stále po hlavní.

33 **15,3**
65,10



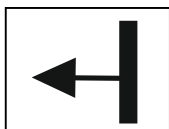
Stále po hlavní.

34 **20,5**
70,30



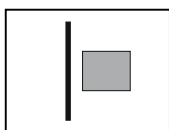
Za křižovatkou je cestou z kopečka radar.
Tak bacha, jezdí se tu pádo, bo jsme v obci.

35 **21,8**
71,60



Odbočujeme doleva.

36 **23,2**
73,00



Úkol č. V.

**Zjistěte a запиšte:
A nechejte si dát razítko.**

**ořko přístupné do 16.00 hod.,
ale slíbili, že počkají, než přijedeme
vřichni
(tak to snad klapne...)**

Otázka V.A: Čím se živil tatínek pána, kolem kterého se točí tohle muzeum?
(odpověď "rukama" nebo "jídlem" je špatně; napište profesi)

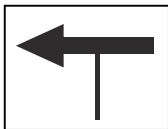
Otázka V.B: Pán, kterému je muzeum věnováno, měl o 3 roky starší sestru.
Jak se jmenovala?

Otázka V.C: V muzeu je vystaven hudební nástroj, na který hrál Josef Suk.
Jaký hudební nástroj?

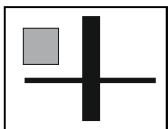
VYNULUJTE TACHOMETR

VYNULUJTE TACHOMETR37 **0,0**
73,00

Po splnění úkolu se otočíme a jedeme stejnou cestou zpět na hlavní.

38 **1,4**
74,40

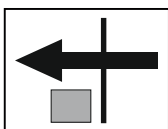
Na hlavní doleva

39 **17,7**
90,70

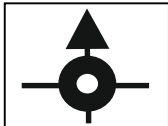
Klasika, letos jednodušší.

Úkol č. VI.**Zjistěte objem kašny po horní okraj.****přístupné non-stop****Počítejme, že kašna nemá rantl a hloubku měříme tak nějak střední hodnotou.****Je to fakt jednoduchý... žádný osmiúhelník. ;-)**


Ta 4 zvířátka jako by tam nebyla, protože přeměřovat žábu opravdu nebudeme.

40 **17,8**
90,80

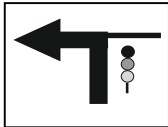
Od úkolu zpět na hlavní a pokračujeme dál.

41 **26,8**
99,80

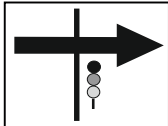

Kruháč přejedeme rovně. Tedy myslím rovně, ale ne úplně rovně.

42 **27,4**
100,40

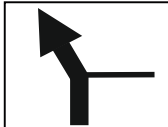
Dtto.

43 **28,2**
101,20

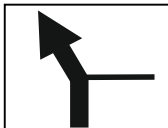
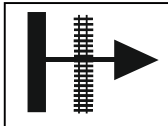
První světla - po hlavní.

44 **28,3**
101,30Druhá světla - velká křižovatka.
Na semaforech doprava.45 **30,3**
103,30

Před mostem odbočujeme doleva na silnici č. 112.

46 **44,8**
117,80

Na dolním konci náměstí mírně doleva - po hlavní.

47 **45,0**
118,00A tady znovu mírně doleva - po hlavní, jedeme po silnici 639.
Ulice doprava má číslo 112 a tudy ne!48 **49,7**
122,70

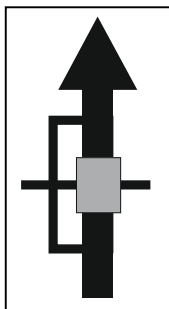
Doprava a přes koleje.

49 **50,2**
123,20**Úkol č. VII.****přístupné non-stop****Rychlovka.****V této obci prostě sežeňte libovolné razítko.****Na razítku musí být napsáno jméno obce!!!!****VYNULUJTE TACHOMETR**

VYNULUJTE TACHOMETR

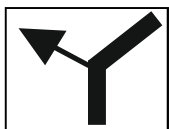
Protože jsme jezdili po vsi, na křižovatce uprostřed náměsí si vynulujte tachometr.

50 **0,0**
123,20



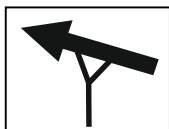
Vím, pořád nulujeme, ale je to hlavně proto, abyste trefili příští odbočku.

51 **1,0**
124,20



Odbočujeme doleva na Rácov na silnici 13421.
(Ale není tak strašná.)

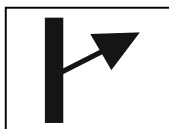
52 **5,9**
129,10



Vjíždíme na hlavní, doleva.

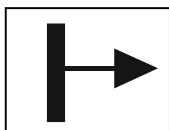
*Je pátek před Vymetáním 21:24 hod. a zjistil jsem, že tu někde bude uzavírka a objížďka... :-)
Teď už s tím nic nenadělám... Kdyby něco, volejte.*

53 **10,5**
133,70



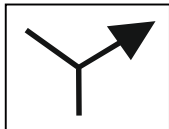
A doprava, silnice se výrazně zúží, ale je stále pěkná.

54 **13,7**
136,90



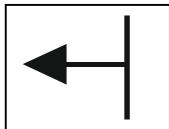
Doprava, do obce.

55 **13,8**
137,00



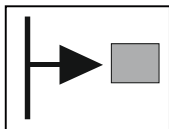
Po pravé ruce minete něco jako obecní požární nádrž, za nádrží jedete mírně doprava.

56 **14,0**
137,20



Mezi domy doleva.

57 **14,1**
137,30



Sledujte šipky! Místo k parkování bude označeno.

Úkol č. VIII.

budeme na vás čekat
kdybyste věděli, že vynecháváte,
dejte nám, prosím, vědět
na tel. XXX XXX XXX

Najděte si nás a rychle pochopíte. ;-)
Nebojte se, jde se jen "malý okruh".
Poradíme, pomůžeme...

VYNULUJTE TACHOMETR

VYNULUJTE TACHOMETR

58			Z úkolu vyjedete stejnou cestou k hlavní silnici. Takže z kopečka dolů a hned pod zahradou doleva.
59			Doprava.
60			Mírně doleva. Obecní koupaliště po levé ruce.
61			A jsme zpátky na silnici. Jedeme doprava, pokračujeme směrem na jih.
62			Doprava, po hlavní.
63			A na náměstíčku opatrně odbočíme doleva. A fičíme do cíle.
64			Jsme těsně před cílem, městečko cca 5400 obyvatel.
65			Vpravo je plot zámeckého parku, vlevo vidíte hotel, kde budeme bydlet. Hned za hotelem - ještě před parkovištěm - odbočte doleva. Jste v cíli!!! Někde tady nás už uvidíte.

Najed'te motorkou před cílový panel. Vyfotíme si vás, abyste měli tradiční památku do sbírky.

Pak hurá ubytovat a na něco dobrého k večeři. Začátek večere nasměrujeme tak, abyste tu byli všichni.

Motorčky budou v noci parkovat v uzavřeném - oploceném parkovišti, které sice není střeženo, ale je obehnané vysokým plotem, je zamčené a kouká na ně kamera.

Šťastnou cestu!!!

STARTOVNÍ DOKLAD

18. Vymetání výfuků 2018

Vážení přátelé, startovat začneme zhruba od 10:30 hod.

Startovat budeme postupně tak, abychom se hned na prvním úkolu všichni neshlukli.

Čeká vás necelých 180 km a 8 většinou veselých úkolů.

je jako obvykle v hodnocení velmi výrazně potlačen. Rozhodující je plnění úkolů!!!

První část itineráře dostanete při odjezdu, další část pak cestou. Šťastnou cestu.

Čas

startovní čas

:

Nevyjíždějte, dokud sem Vláďa nezapiše čas.

(start bude od cca 10:30 do 11:45 hod.)

Úkol č. I. 10:45 - 12:45 hod.

výsledek

Úkol č. II. 10:45 - 12:45 hod.

výsledek

razítko

Úkol č. III. non-stop

III.A) ICAO **LKBE**III.B) 1958-1964 **L-200 MORAVA**III.C) Největší provoz **2003**

Úkol č. IV. od 12.30 do 16.30 hod.

IV.A a) **Jindřich**IV.A b) **272 let**IV.B a) **tolar Rudolfa II.**IV.B b) **1606**IV.C a) **Jan Ignác Komenský**IV.C b) **strýc**

razítko

Úkol č. V. do 16 hodin, možná déle

V.A) Profese **sládek**V.B) Sestra **Albína *1821**V.C) Hudební nástroj **klavír**

razítko

Úkol č. VI. non-stop

 $\pi \times r^2 \times h \dots 3,14159 \times 1,53 \times 1,53 \times 0,37$
 $\text{mínus } a \times a \times v \dots 0,6 \times 0,6 \times 0,37 = 2,5878$

výpočet

Úkol č. VII. +/- non-stop

razítko

Úkol č. VIII. počkáme na vás

výsledek

razítko

Když nebudete nějaký úkol stíhat, zavolejte.
Uvidíme, co se bude dát dělat. ;-)

cca 15:30 - 19:30 hod.

cílový čas

:

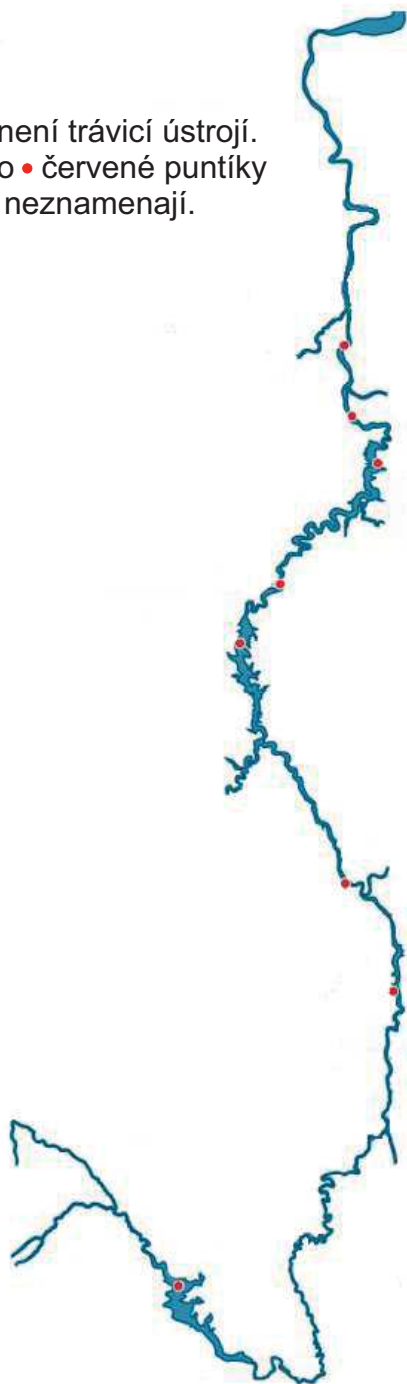
Start! Čekáme vás na prvním úkolu.

Úkol je v provozu od 10.45 do 12.45 hod. (nebo průjezdu posledního).

Jak se na první úkol dostanete? Docela jednoduše.

1

To není trávicí ústrojí.
Tyto • červené puntíky
nic neznamenaají.



2

Kdybyste jeli lodí, dojeli byste na 1. úkol z Braníku proti proudu a museli byste zdolat nejprve **jeden jez** a potom **tři přehrady**.

3

Kdybyste jeli lodí pravidelnou linkou (začne jezdit 30.6.), z přehrady k nám jsou to **dvě stanice**, jízdné je 50,- Kč a cesta trvá cca 15 minut.

4

Protože ale asi lodí nepojedete, pomůže Vám u cíle tahle cedule. Sorry, je trochu vorezlá... ;-)

Vydejte se podle šipky, ještě cca 400 m.



5

A už jste tady.



O nápovědu si klidně zavolejte na **XXX XXX XXX**. Máme připraveny 3 levely - 3 různé nápomocné nápovědy. Nápověda ale není zadarmo. ;-)

Po splnění prvního a druhého úkolu (oba proběhnou na prvním stanovišti) dostanete další část itineráře.

Šťastnou cestu!

Sem prosím jméno:

A**A máme tady oblíbený testíček!**

Na této stránce se budeme věnovat vltavské kaskádě. Odpovídejte, prosím, do příslušných rámečků. **Zkuste to ale bez těch internetů!!!**

Odhadněte výšku Slapské přehrady (spád - tedy rozdíl hladin před a za přehradou) *tolerance +/-10 metrů*

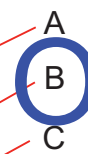
56 metrů

Kolik mostů přes Vltavu (včetně železničních) je od soutoku s Berou až k pražské ZOO? *tolerance +/- 2 mosty*

16

- 1) Branický (Intelligence)
- 2) Barrandovský
- 3) železniční na Výtoni
- 4) Palackého 5) Jiráskův
- 6) most Legií (u Národního divadla)
- 7) Karlův 8) Mánesův
- 9) Čechův 10) Štefánikův
- 11) Hlávkův
- 12) Negrelliho viadukt
- 13) Libeňský
- 14) železniční v Holešovicích
- 15) Barikádníků 16) Trojský

Jaké písmeno označuje místo, kde se teď právě nacházíme?



Jméno tohoto města?

Písek

Jak se jmenuje přehrada na tomto místě?

Hněvkovice

Jak se jmenuje tahle část řeky?

Teplá Vltava

Jak se jmenuje tenhle vltavský přítok?

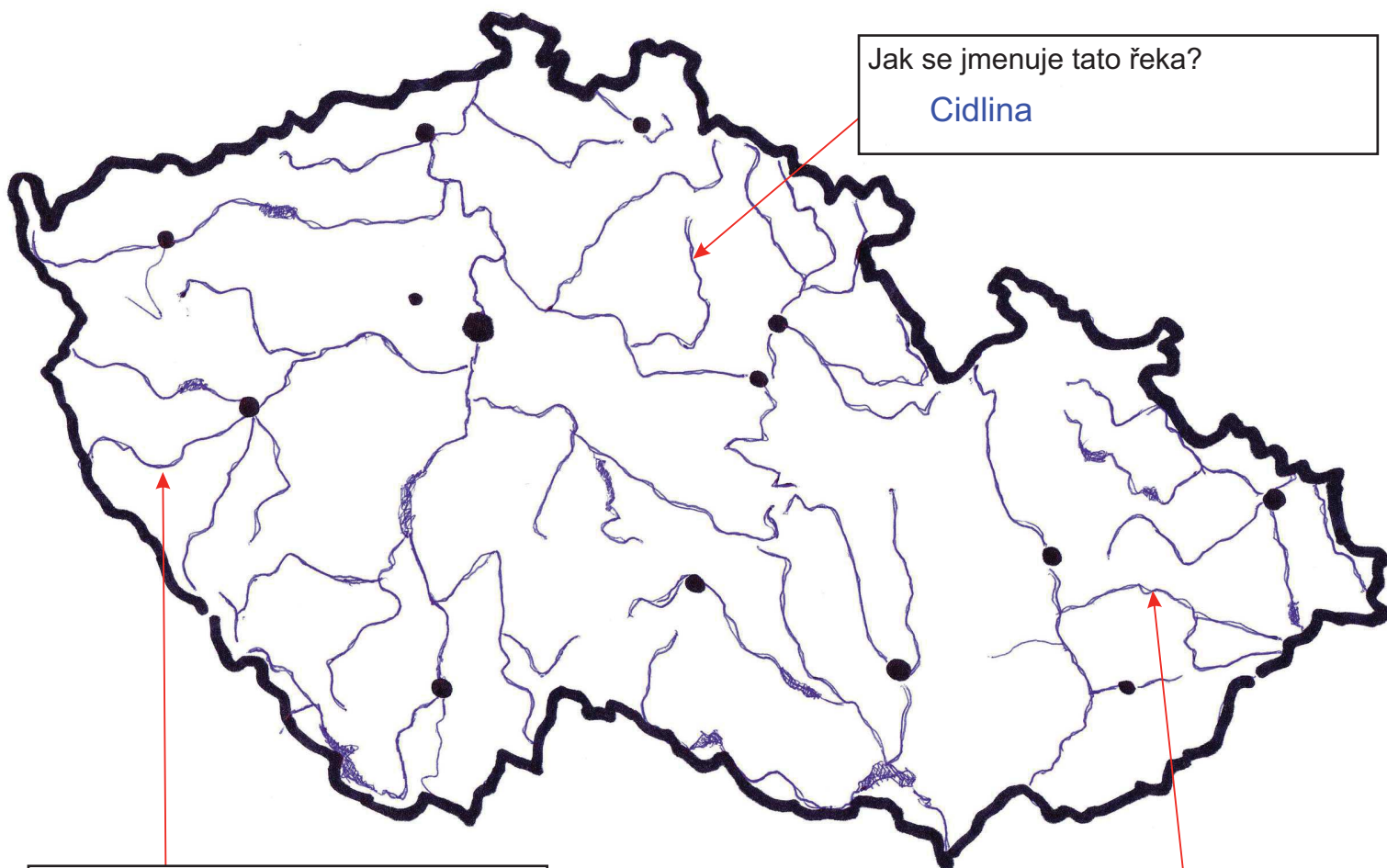
Malše

Otoč!

Test pokračuje na další stránce.

I na této stránce patří odpovědi do příslušných rámečků.

A



Jak se jmenuje tato řeka?

Cidlina

Jak se jmenuje tato řeka?

Radbuza

Jak se jmenuje tato řeka?

Bečva

Jaká řeka protéká Turnovem?

Jizera

Jaká řeka ústí v Ústí nad Labem do Labe?

Bílina

Jaká řeka odvádí vodu z ČR do Baltského moře?

Odra

Jak se správně jmenuje vodní nádrž, které se říká Želivka?

Švihov

Sem prosím jméno:

B**A máme tady oblíbený testíček!**

Na této stránce se budeme věnovat vltavské kaskádě. Odpovídejte, prosím, do příslušných rámečků. **Zkuste to ale bez těch internetů!!!**

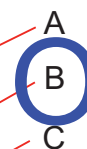
Odhadněte délku Slapské přehrady (od hráze Slapy k předchozí hrázi proti proudu) *tolerance 8 km*

43 km

předchozí (proti proudu) přehrada je Kamýk

Kamík - říční km 134,7
Slapy - říční km 91,7

Jaké písmeno označuje místo, kde se teď právě nacházíme?



Kolik přehrad (vč. jezů) je mezi tímto místem a hladinou u pražské ZOO?

8

- 1) Slapy 2) Štěchovice
- 3) Vrané n.V. 4) Modřany
- 5) jez u Jiráskova mostu
- 6) jez u Karlova Mostu

- 7) Štvanice 8) Trója

Jméno tohoto města?

České Budějovice

Jak se jmenuje přehrada na tomto místě?

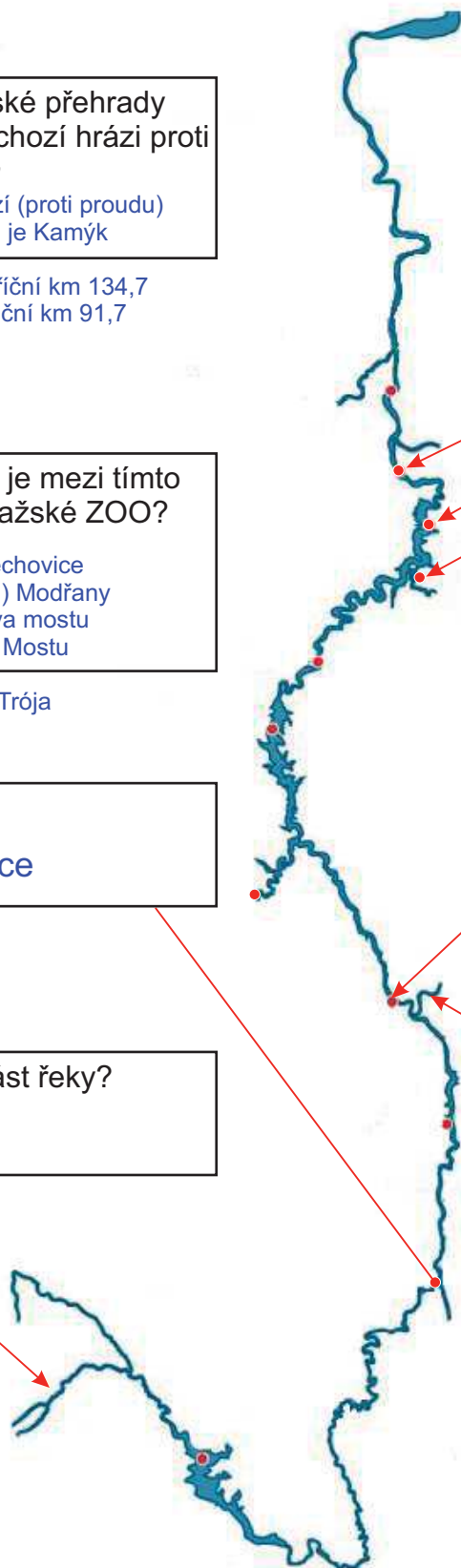
Kořensko

Jak se jmenuje tahle část řeky?

Studená Vltava

Jak se jmenuje tenhle vltavský přítok?

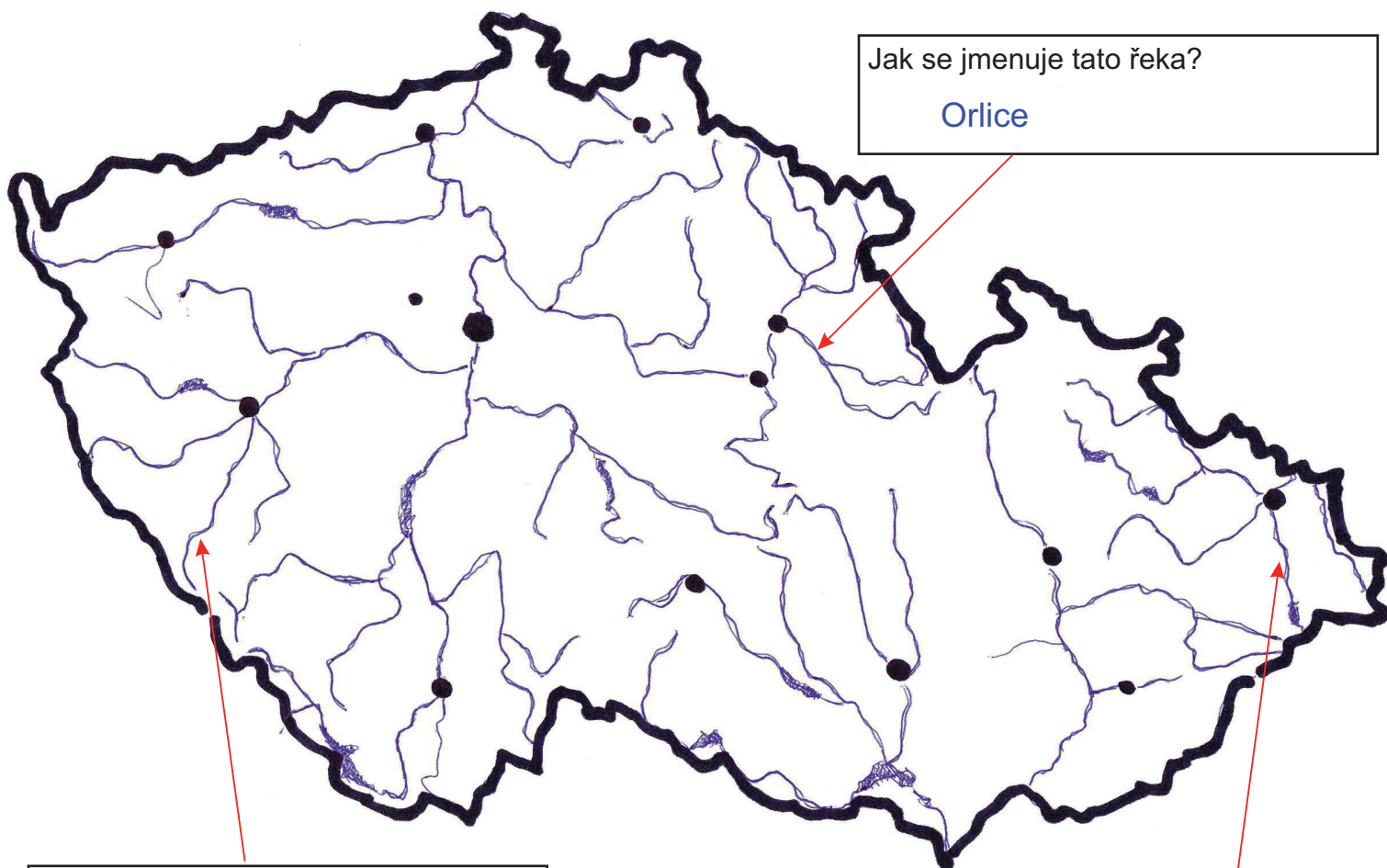
Lužnice

**Otoč!**

Test pokračuje na další stránce.

I na této stránce patří odpovědi do příslušných rámečků.

B



Jak se jmenuje tato řeka?

Orlice

Jak se jmenuje tato řeka?

Úhlava

Jak se jmenuje tato řeka?

Ostravice

Jaká řeka protéká Jičínem?

Cidlina

Na jaké řece je postaveno vodní dílo Nové Mlýny?

Dyje

Jaká řeka odvádí vodu z ČR do Severního moře?

Labe

Kde pramení Berounka?

vzniká soutokem Mže a Radbuzy