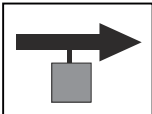
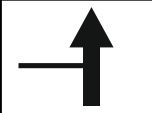
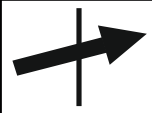

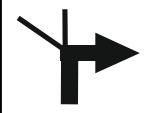

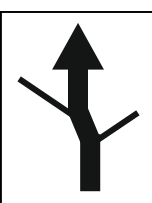
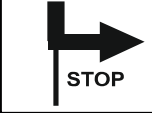
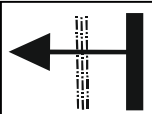

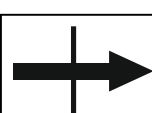

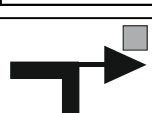


Vymetání 2017

Pořadí	Start. číslo	Jméno	Start		Cíl		Body	Ukol I. - mletí			Ukol II.		Ukol III.			IV.	Ukol V.					Ukol VI.		IX.	Body	Ukol VII.		Ukol VIII.		Body celkem
			hod.	min.	hod.	min.		min.	vteř.	Body	test	Body	P. V. B. T.	první film	chlupáč		zdice	fúgner	sokol	jméno	vojsko	madrid	1733			muzeum	kašna	Body	míčky	
1	18	Luděk	10	50	16	44	29	2	16	46	7	49	1	1	1	1	1	1	1	0	1	1	1	60	3700	25	3	30	238,4	
2	1	Michal	11	6	16	15	41	2	44	39	6	42	1	1	1	1	1	1	1	1	1	1	66	3900	29	2	20	237,3		
3	3	Eva	11	0	18	30	1	1	56	51	11	77	1	1	1	1	1	1	1	1	1	1	66	4041	32	1	10	236,8		
4	19	Jana	S	10	50	16	44	19	2	20	45	8	56	1	1	1	1	1	1	0	1	1	1	60	3700	25	3	30	234,7	
5	13	Karel		10	45	17	6	21	2	55	36	8	56	1	1	1	1	1	1	1	1	1	66	4185	35	2	20	233,6		
6	8	Helena		10	56	18	30	0	2	35	41	12	84	1	1	1	1	1	1	1	1	1	66	2781	6	3	30	227,7		
7	2	Alois		10	52	17	25	17	3	35	26	7	49	1	1	1	1	1	1	1	1	1	66	4000	31	3	30	219,5		
8	15	Petr P.		10	47	17	3	22	4	1	20	10,5	73,5	1	1	1	1	1	1	0	1	1	1	60	3650	24	2	20	219,4	
9	9	Nela	S	10	57	18	30	0	3	45	24	11	77	1	1	1	1	1	1	1	1	1	66	3538	22	3	30	218,5		
10	10	Honza H.		10	45	17	25	15	1	47	53	5	35	0	0	1	1	1	1	0	1	1	1	48	4200	35	3	30	216,5	
11	5	Petr F.		10	53	17	25	18	3	7	33	6	42	1	1	1	1	1	1	1	1	1	66	3500	21	3	30	209,8		
12	7	Marek L.		10	57	18	30	0	3	25	29	10	70	1	1	1	1	1	1	1	1	1	66	3680	24	2	20	209,5		
13	16	Honza F.		10	47	17	3	22	2	20	45	4	28	1	1	1	1	1	1	0	1	1	1	60	3640	24	3	30	208,9	
14	11	Filip		10	45	17	25	15	2	55	36	4	28	1	0	1	1	1	1	0	1	1	1	54	4000	31	3	30	194,5	
15	14	Jarda K.		11	6	16	50	31	3	31	27	6	42	1	1	1	1	1	1	1	1	1	66	5200	16	1	10	192,7		
16	12	Jarda P.		10	58	16	40	32	3	35	26	6	42	1	1	1	1	1	1	0	1	1	1	60	6000	0	3	30	190,3	
17	6	Josef		10	53	17	25	18	3	50	23	4	28	1	1	1	1	1	1	1	1	1	66	3200	15	3	30	179,1		
18	20	Vláša ml.		10	54	16	40	31	1	49	53	4	28	1	1	1	1	1	1	0	1	1	1	60	6000	0	0	0	171,6	
19	4	Marek S.		10	47	17	3	22	5	20	0	2	14	1	1	1	1	1	1	0	1	1	1	60	3640	24	3	30	149,9	

- | | | | |
|----|------|---|---|
| 1 | 0,0 | Cafe Caffino
VYNULUJTE TACHOMETR | |
| 2 | 0,0 |  | Vyjdete-li ven z kavárny, pojedete směrem doprava - do kopce. |
| 3 | 0,1 |  | Zleva jste (většinou) přijeli. Teď odjíždíte rovně, do kopce. |
| 4 | 1,4 |  | Křižovatka v polích zvaná "U křížku".
Doprava. |
| 5 | 3,9 |  | STOPka, v obci. Odbočte doleva.
Obec projíždíte po hlavní. Je klikatá, ale hlavní. |
| 6 | 4,3 |  | Pořád jste v obci - doprava, po hlavní. |
| 7 | 4,7 |  | POZOR!!!
Na tomhle místě jde hlavní doleva, ale my jedeme rovně. |
| 8 | 11,0 |  | Taková divná klikatice v divné obci.
Rovně, stále po hlavní. |
| 9 | 15,1 |  | Obec, STOPka. Doprava. |
| 10 | 17,4 |  | Doleva, na most.
A vzápětí rovně přes koleje. |
| 11 | 20,3 |  | Doprava, pořád po hlavní. |
| 12 | 22,4 |  | Jste v obci, doprava. |
| 13 | 22,9 |  | Na konci náměstí znovu doprava. |
| 14 | 23,0 |  | A hned ještě jednou doprava, do slepé ulice.

Čeká tu na vás Úkol č. III |

15 **23,1**Zaparkujte a splňte úkol.
Úkol č. III.


(kávomlýnek byl úkol č. I, testík byl úkol č. II)

přístupné non-stop

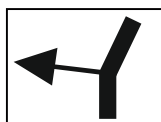
Není to obtížné. Zjistěte:

a) V jakém domě v této obci (č.p.) prvně působil spisovatel P.V.B.T.?**b) Jak se jmenoval první film zde oslavované operní divy?****c) Co nebo kdo to byl Chlupáč?**

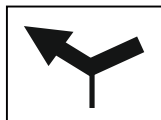
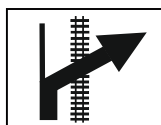
Hotovo? Tak zpět na motorku a pokračujeme...

16 **23,1**Vraťte se na začátek slepé ulice a pokračujte dále - tzn. rovně.
A jedete pořád po hlavní. Nedá se zabloudit.17 **28,9**


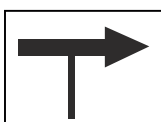
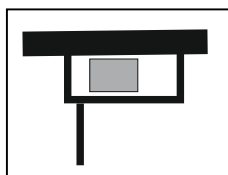
A doleva. NE tou první, ale až tou druhou odbočkou.

18 **29,6**

Jste v obci. V docela nepřehledné křižovatce mezi domy odbočujete doleva směrem na Zdice na silnici 11524.

19 **30,9**Pozor, dole pod kopcem přijde znenadála "Téčko".
Přijíždíte z vedlejší a dáte se doleva.20 **31,4**

Doprava, po hlavní a přes koleje.

21 **32,5**Pozor, přejíždíte hlavní.
Jedete směr Slavíky.22 **36,2**Dojedte až na Téčko, jiné odbočky neplatí.
Doprava a po 100 metrech vjedete pod most pod dálnici.
Podjedete most a dojedete po hlavní až na náměstí.23 **36,9**

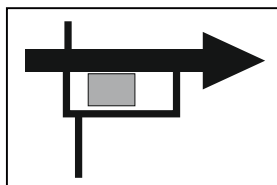
Náměstí v této obci.

Úkol č. IV.**přístupné non-stop**

Zase jednoduchý úkol:

Nechejte si dát do startovního dokladu jakékoliv razítko, na kterém bude vidět název této obce.

Protože možná budete potřebovat popojet, tak tady budeme nulovat tachometr.

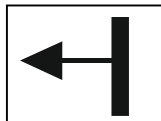
VYNULUJTE TACHOMETR24 **0,0**
36,9Odjíždět budeme na hlavní doprava (ve směru příjezdu).
Prozradím, že je to směr na Prahu. ;-) Ale jen kousek.

25
37,1



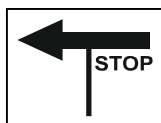
Stále jsme v obci. Tady ještě doprava, po hlavní.

26
37,2



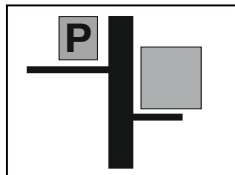
A tady hned doleva, odbočujete na vedlejší na silnici č. 236.

27
41,3



STOPka. A doleva.

28
41,6



Úkol č. V

přístupné non-stop

Budovu, kde budete plnit další úkol, budete mít po pravé ruce. Není tu moc místa, tak zaparkujte asi o 50 metrů dále na levé straně. Tam je místa habaděj.

Zase nic komplikovaného:

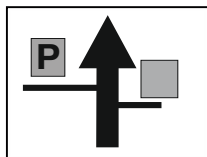
a) Doplňte verš: Lesy šumí tobě na pozdrav,

b) A napište, co z toho bylo.

Do myslivny běhat nemusíte. Prostě napište, co vzniklo. A že to bylo o kiláček vedle? To neřešte. ;-)

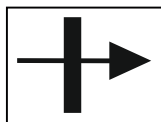
c) Jak se jmenoval ten třetí řízek a co dělal v civilu, ehm v uniformě?

29
41,7



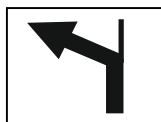
Po splnění úkolu NENULUJEME a pokračujeme.

30
44,3



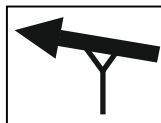
Křižovatka "Zelený kříž".
Doprava, stále jedeme po silnici 236.

31
45,5




Stále 236.

32
51,7



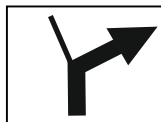
Na hlavní doleva.

33
56,7



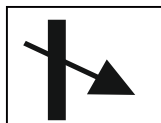
Přejedeme říčku a odbočujeme doleva.
Pozor, odbočujeme na vedlejší!!!
A silnice nebude další cca 2 km nic moc...

34
57,5




Ted' jedeme doprava, po hlavní.
Za chvíli se sem ale budeme vracet a pojedeme do té vedlejší!

35
60,1



Doprava a modří už vědí... Mnozí z nás tu nejsou poprvé, ale to nevadí.

36
60,2

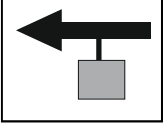





Úkol č. VI.


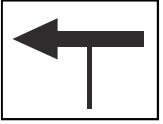
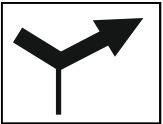

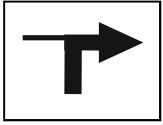
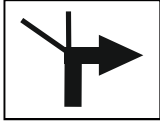


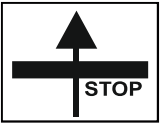
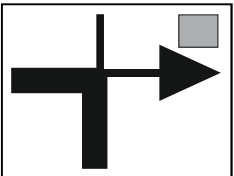
přístupné do 17 hodin

Takže šup nahoru!!!

Zjistěte, které a) město z výběru je odsud nejdál a b) jak je daleko.

- 37 **23,3**
60,2  Nenulujeme, vracíme se kousek zpátky, takže na STOPku.
- 38 **23,4**
60,3  Na STOPce doleva a dolů z kopce.
- 39 **26,4**
63,3   **Tady fakt opatrně!!!!
PRUDCE doprava na vejdlejší.
Opatrně. Je to fakt blbá odbočka.**

A jedeme roztomilou, ale úzkou !!!! silnicí podél té říčky, co jsme před chvílí přejížděli.

- 40 **36,1**
73  Rovně, vjíždíme na hlavní.
- 41 **43,1**
80  A tady doleva.
- 42 **52,4**
89,3  A tady dodododododoprava.
Zase vjíždíme na hlavní.
- 43 **57,0 ~ 58,0**  **Pozor, rozbitá silnici.**
- 44 **59,5**
96,4  Po hlavní, doprava. 
- 45 **64,7**
101,6  A ještě jednou po hlavní, doprava.
- 46 **65,5**
102,4  Pořád stejná silnice, ale hlavní je překvapivě takhle.
- 47 **71,2**
108,1  Větší mestečko. STOPka. Rovně na náměstí.
- 48 **71,5**
108,4  A doprava. Úkol je na dohled.

Úkol č. VII.

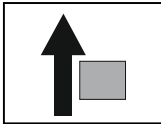
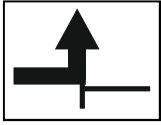

přístupné non-stop

Najděte kašnu.


Změřte si co potřebujete a spočítejte, kolik je v ní zhruba vody.
(Tváříme se, že ten prostřední monument v horní nádrži neexistuje.)

Jsme lehce za půlkou. Ujeli jsme cca 120 km a do cíle zbývá 86 rychlých km a 2 úkolíky.
Čas na oběd. Nikde jsme oběd neorganizovali, je nás 5,5 a možností najíst se je třeba zde na náměstí několik. Něco do sebe hod'te, dobrou chuť a pokračujemeeee!


VYNULUJTE TACHOMETR

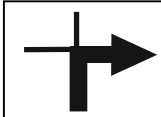
- 49 0,0
108,4  U kašny vynulujte tachometr a vyjeďte směrem na jih.
- 50 0,1
108,5  Pod náměstím vjedeme na hlavní a pokračujeme rovně.
- 51 2,1
110,5  Pozor, údajně tady probíhají Marianánské slavnosti a pouť. Byli jsme upozorněni, že tu bude hromada lidí. Opatrně!!!


Pokračujeme stále po hlavní. I když se silnice různě kroutí, pořád je to hlavní. **Hezké svezení.**

- 52 21,7
130,1  Městečko. Hezký městečko, ale PŘÍŠERNÁ silnice.

- 53 22,2
130,6   **Příšerná silnice cca 1,2 km.**

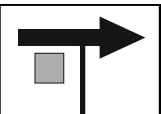
- 54 28,8
137,2  Pozor, nezapomeňte tady odbočit. Ale NE na silnici 193! Musíte jet po silnici 201.


- 55 34,3
142,7  Doprava, po hlavní.

- 56 36,3
144,7  **Úkol č. VIII.**
A je tu další úkol.

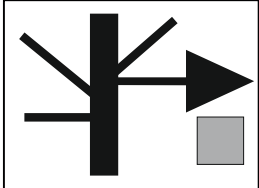
budeme na vás čekat
kdybyste věděli, že vynecháváte,
dejte nám, prosím, vědět
na tel. XXX XXX XXX

Trochu se protáhnete a po protažení vyrazíte směrem doprava.

- 57 36,4
144,8  Na hlavní a doprava.
Rychlá silnice, přehledná, ale stejně, prosím, s rozumem.
Na části silnice probíhá kyvadlový provoz!!!

- 58 62,2
170,6  Doleva, do centra.
Tady se musíte trefit do správné ulice. Nelekněte se, vypadá to trochu jako vjezd na zahradu.

- 59 62,5
170,9  Tady rovně, vjíždíme na hlavní.

- 60 62,6
171,0  Doprava a po 50m po pravé straně vidíte další **tematický** úkol.
Žádný hračky!
Takže až nahoru.

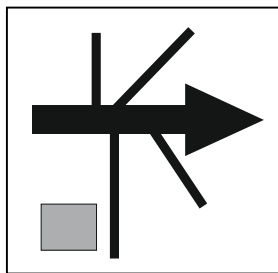
úkol je v provozu do 18.30 hod.
nebudete-li stíhat, volejte
pokusíme se to nějak zařídit

Úkol č. IX.

- a) Napište, jaký exponát se vám na tomto úkolu nejvíce líbil.
b) Nejuden exponát je světový unikát (pouze jediný zachovalý kus), napište alespoň jeden z nich.
c) Nechejte si od pana domácího otisknout razítko.

Do cíle zbývá cca 25 km.

61 **62,7**
171,1




Vraťte se zpět na poslední křižovatku a dejte se doprava.
Možností "doprava" je víc, ale jediná správná volba se jmenuje NÁDRAŽNÍ.

62 **62,9**
171,3



Po hlavní a přes řeku.

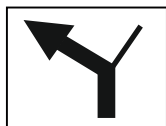
63 **63,0**
171,4



Doleva, na hlavní a přes koleje.

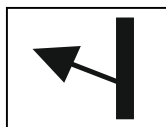
Krásné svezení.

64 **75,2**
183,6



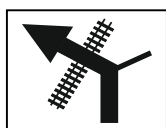
U pošty doleva, po hlavní.

65 **75,7**
184,1



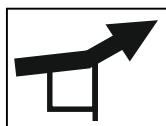
Nezapomeňte odbočit.
Silnice se zúží, ale jedete správně.

66 **78,7**
187,1



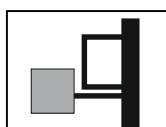
Ještě pár kilometrů a jste v cíli.

67 **84,0**
192,4



Na konci náměstí doprava a z kopce dolů.

68 **86,0**
194,4



Jupí! Vítejte v cíli.

Zatím nevím, kam umístíme cílový banner.

Než se chytnete pullitru, pokuste se mě najít, ať máte i s motorkou cílovou fotečku.

Možná budu až na dvoře - projedte černými kovovými vraty. Ty najdete při pohledu od silnice na ubytovnu v levém rohu parkoviště.

Všimli jste si, že poslední semafor jsme potkali na Barrandově a cestou jsme nejeli přes jediný kruháč?

STARTOVNÍ DOKLAD

+/- 17. Vymetání výfuků 2017

Vážení přátelé, startovat začneme zhruba od 10:30 hod.

Startovat budeme postupně tak, abychom se hned na prvním úkolu všichni neshlukli.

Čeká vás necelých 200 km a 9 většinou veselých úkolů.

Čas je jako obvykle v hodnocení velmi výrazně potlačen. Rozhodující je plnění úkolů!!!

První část itineráře dostanete při odjezdu, další část pak cestou. Šťastnou cestu.

startovní čas

:

Nevyjíždějte, dokud sem Vlád'a nezapiše čas.

(start bude od cca 10:30 do 11:45 hod.)

Úkol č. I. 10:40 - 12:40 hod.

výsledek

mm:ss

Úkol č. VI. do 17 hodin

VI.a) Které město?

Madrid

Úkol č. II. 10:40 - 12:40 hod.

výsledek

0 ~ 13 b.

VI.b) Jak daleko?

1733

Úkol č. VII. non-stop

Voda

4.229 litrů, **otoč**

razítko

Úkol č. VIII. 15:00 - 18:00 hod.

výsledek

míčky 0~5 b.

Úkol č. III. non-stop

III.a) P.V.B.T.

2

III.b) První film

Vyznavači slunce

III.c) Chlupáč

Geolog a paleontolog

razítko

Úkol č. IV. non-stop

razítko

Zdice

Úkol č. IX. do 18:30 hodin

Nejhezčí všechno bylo správně

IX.b) Dochovalý unikát

více možností

razítko

Úkol č. V. non-stop

V.a) Verš Fügnera zde poznal Miroslav

V.b) Co z toho bylo

Sokolstvo

Dr. Josef Scheiner

V.c) Třetí řízek

Gen.inspektor čs.vojsk

Když nebudete nějaký úkol stíhat, zavolejte.
Uvidíme, co se bude dát dělat. ;-)

15:30 - 19:30 hod.

cílový čas

:

Kašna Kralovice

Boční uši

plocha ... 127 × 184	23368
rohý ... 45 × 45	-2036
	<hr/>
	21332

součet hloubek všech nádrží ... $24,5 + 26 + 25 + 23 = 98,5$

2101190 objem cm³
2101 litry
2,10 m³

Horní nádrž

plocha 256,3 × 254,5	65215,63
rohý ... přepona 27 => odvěsny 19,09	
4 rohý jsou 2 čtverce	729
plocha bez rohů	64486,63
hloubka	33

2128059 objem cm³
2128 litry
2,13 m³


Celkem	4229 litry 4,23 m³
---------------	--

Start! Čekáme vás na prvním úkolu.

Úkol je v provozu od 10.40 do 12.40 hod. (nebo průjezdu posledního).

Jak se na první úkol dostanete? Docela jednoduše.

1)



2)



Pozor, tohle není ani meč, ani kord, ani fleret
ba dokonce ani šavle!
(Takže Davle je samá voda.)

3)



Nenechejte se vyvést z míry,
rovně to jde také.
Ale tam taky nechceme.

4) **352 je dobrá volba** Ale silnice z Jihlavy do Polné to opravdu není.

5) **L** 1 2 3 4 5 6 7 8 9 10 **11** 12 13 **J,N**

6)



A už jste tady.

O nápovědu si klidně zavolejte na **XXX XXX XXX**. Máme připraveny 3 levely - 3 různě nápomocné nápovědy. Nápověda ale není zadarmo. ;-)

Po splnění prvního a druhého úkolu (oba proběhnou na prvním stanovišti) dostanete další část itineráře.

Šťastnou cestu!

Sem prosím jméno:

A

Vyplněte následující testíček!

Čerpáme ze státních přijímacích zkoušek na 4-letá gymnázia a střední školy. To znamená, že testujeme znalosti žáků vycházejících ze základní školy.

Tetička Wikipedie, strejda Google i jiné internety stejně jako přátelé na telefonu jsou zapovězeny. Díky za poctivou hru!

Monika, Olga a Pavla spořily na společný dárek. Olga uspořila o čtvrtinu méně než Monika. Pavla uspořila o 140 korun více než Monika. Všechny tři dívky dohromady uspořily třikrát více než samotná Monika.

Napište, kolik korun ušetřila Monika.

560,- (4 body)

$$M+O+P=3M$$

$$M+\frac{3}{4}M+M-140=3M$$

$$1\frac{1}{4}M-140=1\frac{2}{4}M$$

$$M=560$$

Vypočtete, kolikrát méně je 50 kilogramů než 2,4 tuny.

48 (1 bod)

$$2400 / 50 = 48$$

Ve třídě je 24 žáků. Každý žák si zvolil jeden ze tří cizích jazyků: angličtinu, němčinu nebo španělštinu.

Každý čtvrtý žák si zvolil němčinu.

Angličtinu si zvolilo dvakrát více žáků než španělštinu.

12 (2 body)

Napište, kolik žáků si zvolilo angličtinu

Něm ... 6

A zbytek 18 žáků v poměru 2/3 a 1/3

2/3 z 18 je 12

Otoč!

Test pokračuje na další stránce.

Každá otázka má vždy jedno správné řešení.

Ve které z následujících vět je pravopisná chyba?

D

- A) Za jeho píli mu otec slíbil odměnu.
- B) Všechny listiny se mi pomíchaly dohromady.
- C) Klíčový důkaz se ztratil za nevysvětlitelných okolností.
- D) Černé splívavé šaty s krajkovými rukávy lichotily její postavě.

Ve které z následujících možností je správně zapsána interpunkce?

A

- A) Ředitel nám včera oznámil, že naše firma soutěžila o novou zakázku a že tuto soutěž vyhrála.
- B) Protože jsme byli s její prací velmi spokojeni svěřili jsme jí, tu nejdůležitější a nejnáročnější zakázku.
- C) Na základě svých dlouholetých zkušeností a odborných znalostí jsem tento projekt, ale skutečně nemohl podpořit.
- D) Dala jsem najevo svou nespokojenost s řešením problému a kolega, který nastoupil teprve nedávno s mým postojem souhlasil.

Ve které z následujících možností je pravopisná chyba?

D

- A) přestože počet tamějších rostlinných a živočišných druhů
- B) největší poušť světa se rozkládá od severoafrického pobřeží
- C) kamenité pouště, podstatně menší část zabírají pouště písečné
- D) představí vyprahlou, krajně nehostinou pustinou a písečné duny

Ve které z následujících vět je pravopisná chyba?

C

- A) Chrámy významných církví se stavěly v centrech metropolí.
- B) Stoly s kamennými deskami vyrobil známý místní architekt.
- C) Sandály s lesklými přeskami se v minulých letech staly hitem.
- D) Domy se sedlovými střechami byly domovem rorýsích kolonií.

Ve které z následujících vět není pravopisná chyba?

D

- A) Při opětovném zhlédání se moji a její rodiče nečekaně sblížili.
- B) Výrazné slevnění potravin zlepšilo životní úroveň celé naší rodiny.
- C) Schodiště ze strouchnivělého dřeva se včera večer náhle zhroutilo.
- D) Na místě činu policistům zkomplikovali práci shlukující se novináři.

Které z následujících slov neobsahuje předponu?

A

- A) zdejší
- B) svědomí
- C) způsobem
- D) srovnatelný

Sem prosím jméno:

B**Vyplňte následující testíček!**

Čerpáme ze státních přijímacích zkoušek na 4-letá gymnázia a střední školy. To znamená, že testujeme znalosti žáků vycházejících ze základní školy.

Tetička Wikipedie, strejda Google i jiné internety stejně jako přátelé na telefonu jsou zapovězeny. Díky za poctivou hru!

Mezi dvěma letišti vzdálenými 690 km létají pravidelné spoje.

Z prvního letiště vylétá letadlo v 6,30 hodin průměrnou rychlostí o 60 km/h větší než letadlo startující v 7.00 hodin z druhého letiště.

Letadla se míjejí vždy v 9.00 hodin.

Napište, jak daleko od prvního letiště se letadla minula?

450 (4 body)

$$s_1 = (v+60) \cdot 2,5 \quad s_2 = 2v$$

$$2,5v + 60 \cdot 2,5 + 2v = 690$$

$$v = 120$$

$$s_1 = 180 \cdot 2,5 = 450$$

Vypočtete, o kolik dm^2 se liší 50 dm^2 a $2,4 \text{ m}^2$.

190 (1 bod)

$$240 - 50 = 190$$

Na stole bylo 18 talířů. Na každém talíři byl stejný počet jednohubek.

Tomáš si s kamarády odnesl třetinu všech talířů s jednohubkami. Lenka si pro své kamarády z každého ze zbývajících talířů vzala tři jednohubky.

Na stole tak zůstala ještě polovina z původního počtu jednohubek.

Napište, kolik jednohubek odnesla Lenka pro své kamarády.

36 (2 body)

18 ... z toho T vzal 6 tal, zbylo 12

$$12 \times 3 = 36$$

celk. 72 jednohubek .. T 24, zbylo 12

Každá otázka má vždy jedno správné řešení.

Ve které z následujících možností je správně zapsána interpunkce?

A

- A) Pořídila jsem si rukavice, aby mi nebyla zima, bohužel jsem je ale hned ztratila.
- B) Po posledním náročném testu, jsme usoudili, že musíme změnit svůj styl učení.
- C) Učitel mu řekl, že se zhoršil v matematice, a že jeho chování také není příkladné.
- D) Včera jsme naplánovali, kdy vyrazíme na výlet a co všechno, si s sebou vezmeme.

Ve které z následujících vět je pravopisná chyba?

C

- A) Chrámy významných církví se stavěly v centrech metropolí.
- B) Stoly s kamennými deskami vyrobil známý místní architekt.
- C) Sandály s lesklými přeskami se v minulých letech staly hitem.
- D) Domy se sedlovými střechami byly domovem rorýsích kolonií.

Ve které z následujících vět je pravopisná chyba?

C

- A) Na chatě jsem s rodiči pobyl jen velmi krátce.
- B) Prodejce pojištění jsem odbyl opravdu rychle.
- C) Štíty srubu jsem koncem srpna odbyl prkny.
- D) Na zahradě jsem práci odbyl kvůli bolesti v zádech.

Které z následujících souvětí je zapsáno pravopisně správně?

C

- A) Když se setrhnělo, věděl už zcela určitě, že jejich vzpoura skončí špatně.
- B) Když se začalo smrákat, knížecí vojsko dobilo hrady vzdorujícího města.
- C) Když odhrnula kápi a spatřila v zrcadle svou znetvořenou tvář, oněměla hrůzou.
- D) Když vstoupil do sálu přeplněného cizími lidmi, začal mít obavy, jestli tady vydrží.

Ve kterém z následujících souvětí je pravopisná chyba?

D

- A) Připadalo mi, že se všichni spikli proti mně.
- B) Část obilí sklídl už začátkem léta a uložil do sýpky.
- C) Pravidelně jsem spílal osudu, že byl ke mně příliš krutý.
- D) Napětí v rodině se sklidnilo a opět vysvitla naděje na usmíření.

Ve kterém z následujících úseků výchozího textu se vyskytuje příslovečná sprežka?

B

- A) Upřeně na něj hleděl se zbožnou úctou.
- B) Vtom rytíře vytrhla ze zamyšlení střelba.
- C) Pak rytíři vjeli na koních přímo do muzea.
- D) Nečekaně jim však do cesty vstoupil hlídač.